

Matematika 6. razred



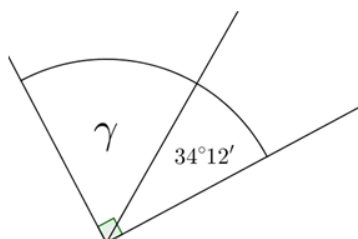
Pozdravljeni učenci!

Prvi teden pouka na daljavo je za nami. Upava, da ste naloge uspešno rešili in da vam nisva nalagali preveč dela. Sedaj pa nas čaka ponovitev in utrjevanje znanja o kotih.



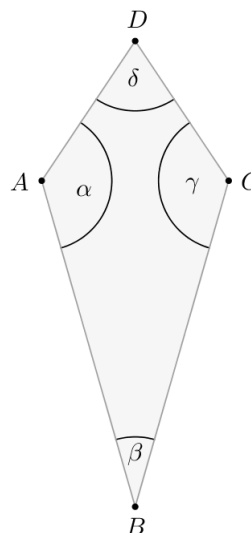
OSTANITE DOMA IN OSTANITE ZDRAVI!

1. **Izračunaj** velikost kota γ na sliki.
 - a. **Kotu** γ nariši skladni kot z vrhom v točki **V**.




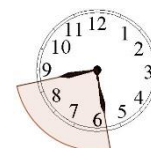
Rešitev: Kot γ meri $55^\circ 48'$

2. Narisan je štirikotnik. Dopolni.
 - a. Katera dva kota sta skladna?
 - b. Koliko meri kot β ?
 - c. Koliko meri kot α ?
 - d. Izračunaj
 - i. $\alpha + \beta$
 - ii. $\alpha - \beta$



3. V kolikšnem času opiše minutni kazalec na uri kot 150° ? Obkroži črko pred pravilnim odgovorom.

A 15 min B 1 h 30 min C 25 min Č 150 min D 150 s



Rabiš pomoč?

Dodatne naloge so na: <https://eucbeniki.sio.si/matematika6/548/index2.html>

Če imaš težave, sporoči na: vesna.harej@quest.arnes.si
ali nives.zavodnik@quest.arnes.si in ti pomagava.

Matematika 6. razred
