

TOREK, 12. 5. 2020

MATEMATIKA

ENICA, DESETICA, STOTICA, TISOČICA

DZ str. 13, 14, 15

Odpri delovni zvezek na strani 13.

Zgoraj vidiš eno jajce. To je ena enica **(1E)**.



1 ENICA = 1 E

V škatli je po navadi deset jajc. To je ena desetica **(1D)**.



10 ENIC
10 E

je
=



1 DESETICA
1 D

Če damo deset škatel jajc na en plato, dobimo sto jajc **(1S)**.



10 DESETIC
10 D

je
=



1 STOTICA
1 S

Deset takih platojev je tisoč jajc ali ena tisočica **(1T)**.



10 STOTIC
10 S

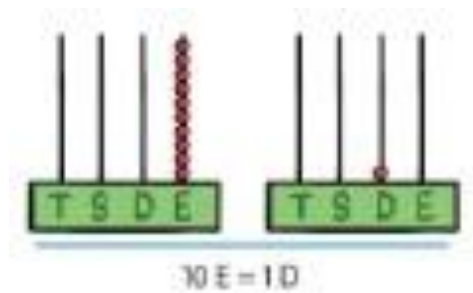
je
=



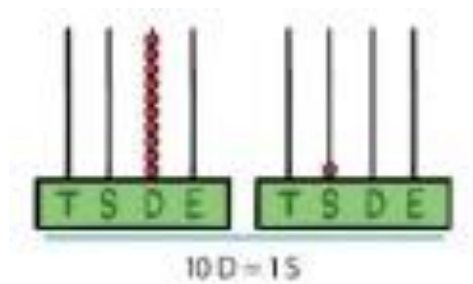
1 TISOČICA
1 T

Spodaj si lahko ogledaš pozicijska računala.

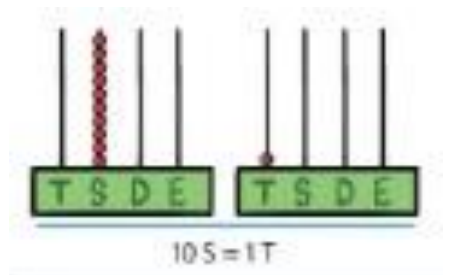
Če je na mestu **enic** nanizano **deset kroglic**, je to isto kot **ena kroglica** na mestu **desetic**.



Če je na mestu **desetic deset kroglic**, je na mestu **stotic ena kroglica**.



In če je na mestu **stotic deset kroglic**, je na mestu **tisočic ena kroglica**.



Zapis v zvezek:

ENICA, DESETICA, STOTICA, TISOČICA

(Pri risanju si pomagaj s kvadrati v zvezku)

· = 1E I = 1D ■ = 1S

100 = 1S = sto	■
200 = 2S = dvesto	■ ■
300 = 3S = tristo	■ ■ ■
400 = 4S = štiristo	■ ■ ■ ■
500 = 5S = petsto	■ ■ ■ ■ ■
600 = 6S = šeststo	■ ■ ■ ■ ■ ■
700 = 7S = sedemsto	■ ■ ■ ■ ■ ■ ■
800 = 8S = osemsto	■ ■ ■ ■ ■ ■ ■ ■
900 = 9S = devetsto	■ ■ ■ ■ ■ ■ ■ ■ ■
1000 = 10S = 1T = tisoč	■ ■ ■ ■ ■ ■ ■ ■ ■ ■

Poglej si spodnja filma, da ti bo razumevanje današnje snovi še lažje:

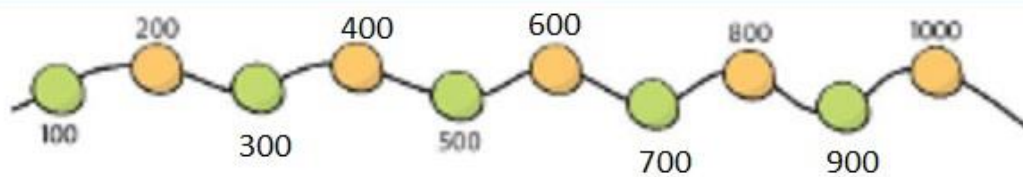
https://www.youtube.com/watch?v=qjWb_rrK07k

<https://www.youtube.com/watch?v=HAmZxWPQQSM>

V delovnem zvezku reši naloge na straneh 14 in 15.

Preveri rešitve naloge:

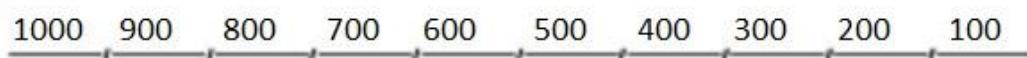
1. Dopolni in odgovori.



Ali so napisana števila soda ali liha?

Odgovor: Zapisana števila so soda.





2. Štej po 100 nazaj, prični pri 1000.



3. Štej po 100 naprej do 1000, prični pri 100.



4. Dopolni.

	tristo	300	3 S
	petsto	500	5 S
	dvesto	200	2 S
	devetsto	900	9 S

5. Vstavi <, >, =.

$7 < 9$

$7\text{ S} < 9\text{ S}$

$700 < 900$

$300 > 200$

$400 > 100$

$500 < 800$

$3 > 2$

$3\text{ S} > 2\text{ S}$

$300 > 200$

$1000 < 2000$

$700 > 300$

$100 = 100$

$9 > 2$

$9\text{ S} > 2\text{ S}$

$900 > 200$

$300 < 600$

$200 < 500$

$800 > 600$

6. Uredi števila od najmanjšega do največjega.

300 100 500 900 1000 800 → 100 300 500 800 900 1000

200 300 800 400 100 900 → 100 200 300 400 800 900

7. Teo je zbral 200 nalepk, Tanja pa 300.
Kdo ima več nalepk?

$200 < 300$

Odgovor: Več nalepk ima Tanja.